

ÚKOLY PRO ŽÁKY 4. ROČNÍKU

Moji milí čtvrtáci,

zdravím vás ve velikonočním týdnu a posílám úkoly ☺. Zkuste si vytvořit stereotyp v učení (učit se každý všední den v pravidelnou dobu a neodkládat učení na později, jinak to bude nad vaše síly a budete mě nesnášet☺)

Kdybyste cokoli potřebovali, neváhejte se na mě obrátit, někdo tak činí i v sobotu a v neděli ☺ Mně to **nevadí**, jen nejsem někdy na příjmu, tak se nebojte, vždycky odpovím, ale někdy to trvá trochu déle ☺

NEZAPOMEŇTE MEZI JEDNOTLIVÝMI ÚKOLY TROCHU ODPOČÍVAT – protáhněte se, napijte se, zaskákejte si přes švihadlo...

Po vypracování mi prosím úkoly vyfoťte a pošlete na školní email nebo messenger. Vyhledáte si mě pod jménem **Jitka Bernadová**.

Pokud pracujete v Učebně (classroom), většina materiálů se mi zobrazí po jejich odeslání. Pokud budu chtít něco napsat do sešitů, vždycky vám to dám vědět ☺

Ještě jednou odkaz na Interaktivní učebnice Taktik: <https://interaktivita.etaktik.cz/login>

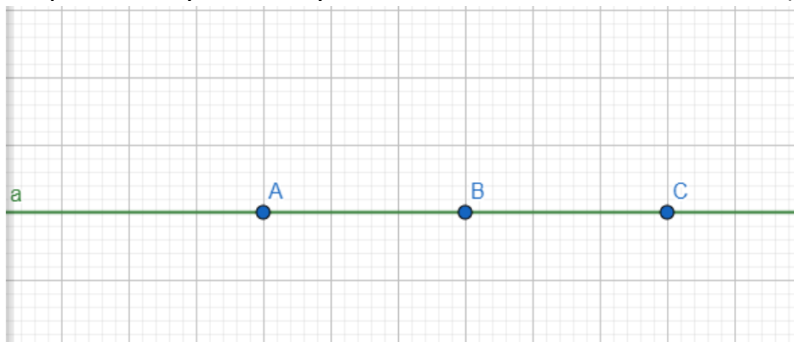
Středa 8. 4.

Dnes budete mít jeden jediný úkol, ve kterém je hlavně čtenářská gramotnost, pracovní činnosti a geometrie (nejprve si přečtete celé zadání, abyste pak nemuseli gumovat, znám vás ☺).

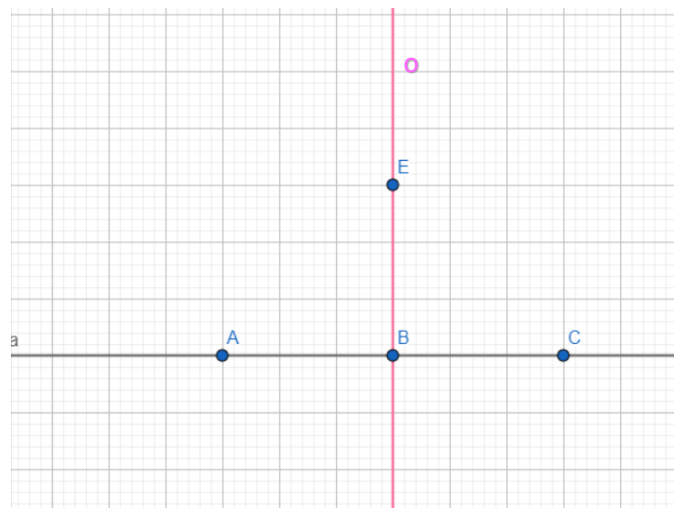
A ještě se mrkněte na Učitelka, dnes o velikonočních zvycích a **zítra** (ano i o prázdninách) ČJ podstatná jména rodu stř. a žen., v obvyklou dobu 10.50 – 11.10.

Geometrie: (rýsujte do čtverečkových sešitů, které jste dostali do schránky)

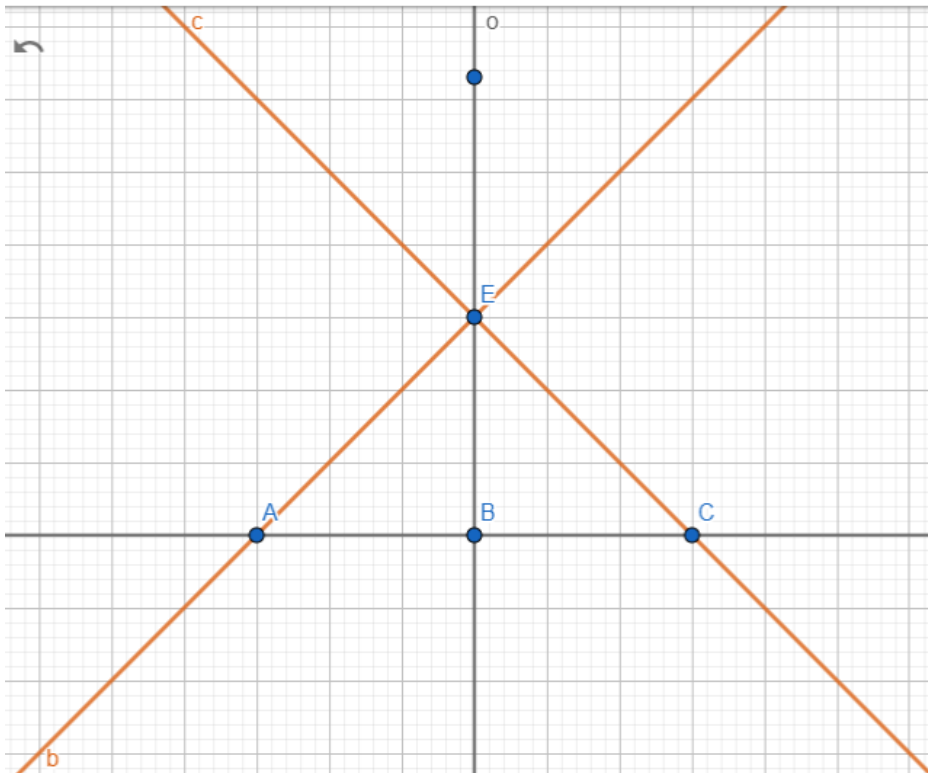
1. Na linku uprostřed čisté strany sešitu narýsuj vodorovně přímku **a**
2. Na přímce **a** vyznač body **A, B, C** 3 cm od sebe – viz obrázek (1 čtvereček = 1 cm)



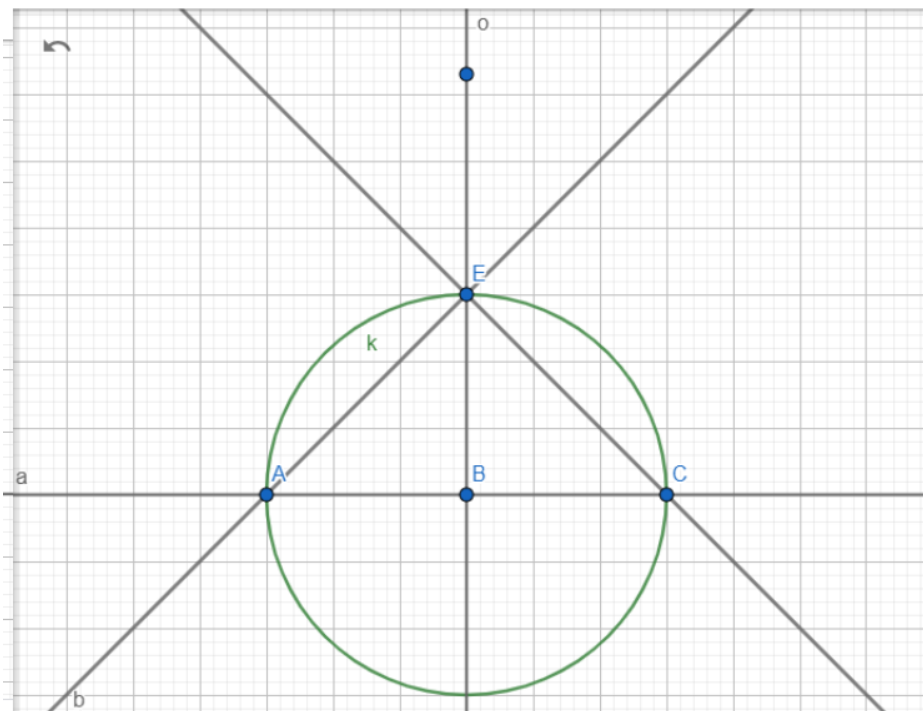
3. Bodem **B** veď kolmici **o** k přímce **a**
4. Na kolmici **o** vyznač bod **E** ($BE = 3$ cm)



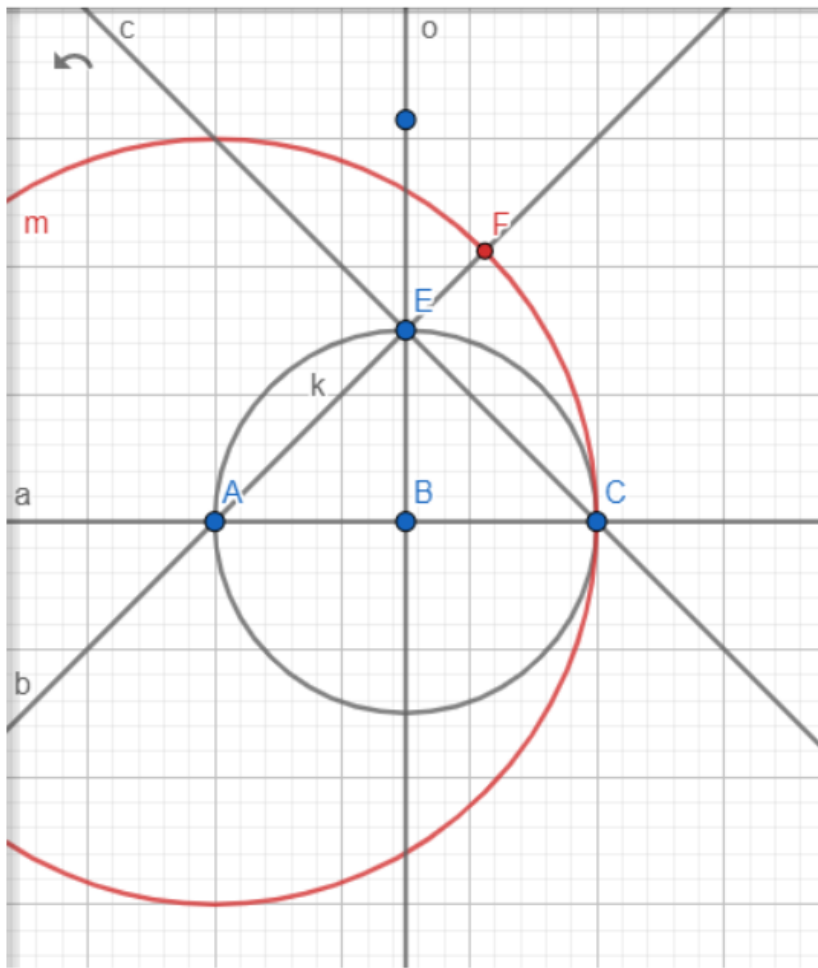
- Narýsuj přímku **b**, která prochází body **A**, **E**
- Narýsuj přímku **c**, která prochází body **C**, **E**



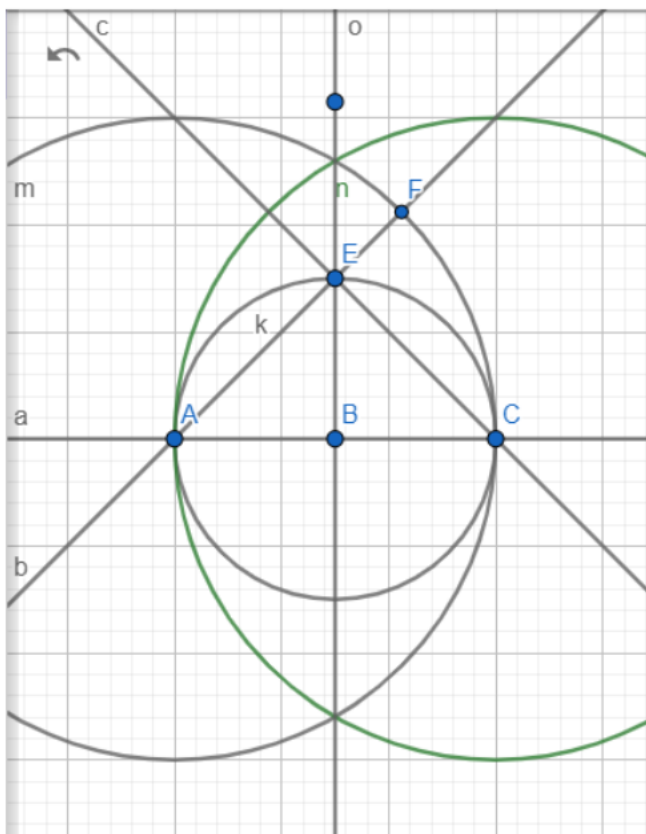
- Narýsuj kružnici **k** se středem v bodu **B** a poloměru **BC** (opíšeš kružnici kolem trojúhelníku **AEC**)



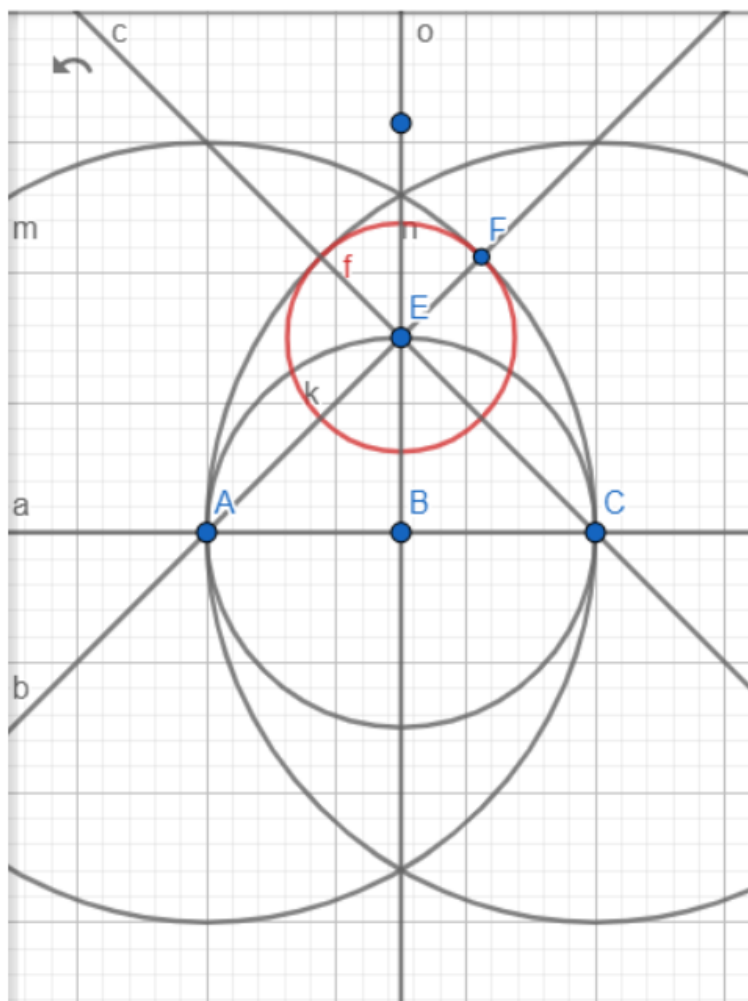
8. Narýsuj kružnici m (stačí část) se středem v bodu A a poloměru AC , která protne kolmici o a přímku c
9. Vyznač bod F v průsečíku přímky b a kružnice m



10. Narýsuj kružnici n (opět stačí část) se středem v bodu C a poloměru CA , která protíná přímkou b a kolmici o

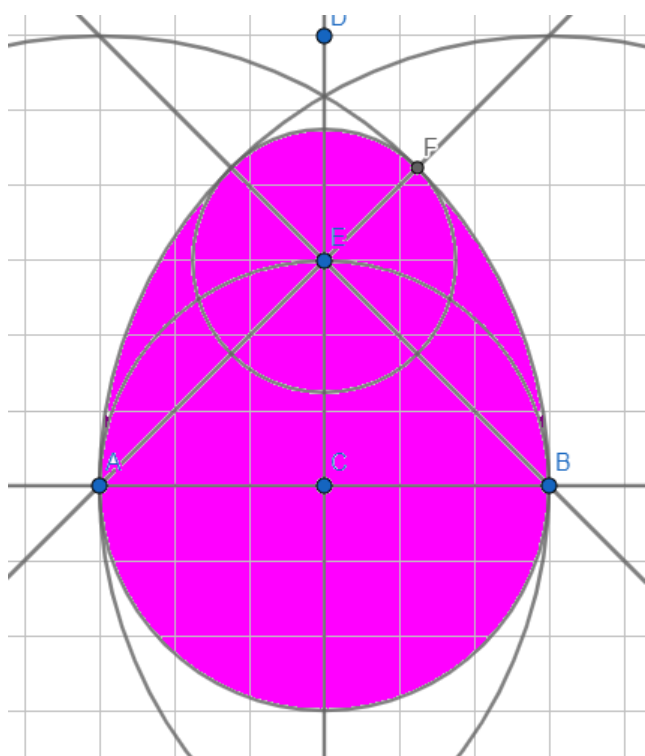


11. Narýsuj kružnici f , se středem v bodu E a poloměru EF



MÁTE HOTOVO.

Pokud jste rýsovali přesně ve výsledném výkresu vybarvěte velikonoční vajíčko ☺



Můžete ho vybarvit jednou barvou jako já nebo si dát práci a udělat z něj velikonoční kraslici. POZOR, stále jsme v geometrii a ta je o **přesnosti**. Takže žádné rychlé čmáranice, ale krásné čisté linie a plochy! Nic jiného už dnes nemáte, takže si dejte záležet.

Přeji vám všem **krásné**, i když letos divné Velikonoce a buďte zdraví. Těším se na vás zase po svátcích.

Paní učitelka Jitka.

Úterý 7. 4.

Všechny materiály, které budou v Učebně, jsou uloženy na školním účtu: jméno@skoladrahanovice.cz

ČJ:

Do sešitů si запиšte nadpis Vzor HRAD a vyskloňujte slovo hrad v jednotném i množném čísle – podle učebnice na str. 100.

Přečtěte si růžový rámeček na str. **101** a vypracujte si cvičení **1 v PS na str. 21**.

M:

Dnes budeme pracovat v **PS na str. 9**, cvičení **6, 7, 8**. V pyramidě počítáte součin – součin (výsledek násobení) vždy dvou sousedících čísel je v obdélníčku nad nimi.

UčíTelka od 10.50 do 11.10

Téma: Pracujeme a počítáme se stavebníci

Vyučuje: Lenka Ficová

AJ:

Úkoly máte **na Učebně** (dva odkazy – family a kahoot), pro Toma je odkaz dole. Hra je bodovací, hrajete proti sobě, nickname si zadejte stejný jaký máte na matika.in, ať vás poznám 😊

https://kahoot.it/challenge/2d3dbb11-5719-445f-97a7-59be006b6ba6_1586158683777

Vlastivěda:

Opět máte materiál **v Učebně**, kurz Přemyslovské království. Přečtěte si **prezentaci** a podívejte se na **video**. Tom si přečte v učebnici str. 21 kapitolu Král železný a zlatý (strana se může lišit podle stáří učebnice 😊)

Dnes je toho trochu víc, ale věřím, že se vám z hlavy nekouří.

Zítra je poslední školní den v tomto velikonočním týdnu, tak si odpočnete 😊

Pondělí 6. 4.

ČJ:

V Učebně na vás čeká druhá **prezentace vzorů rodu mužského**. Po zhlédnutí si vypracujte v **PS na str. 20 cvičení 14** (vzor pán). Všimněte si, že jsou to slova rodu ŽIVOTNÉHO.

V učebnici si přečtěte na **str. 100** článek VÝLET, rod **hrad** (cvičení 1). A zase si každé modré slovo nahlas vyslovte a opakujte: Pásy – pás bez pásu, jako HRAD bez hradu – pásy – HRADY.

A nezapomeňte na ČT2 Učí Telka

Téma: Procvičíme si vyjmenovaná a příbuzná slova po z a zopakujeme všechna vyjm. sl.

Vyučuje: Markéta Grígelová
od 10.50 do 11.10

A hned nato **hudebka**, zazpívejte si pěkně nahlas a s radostí, uvidíte, že vám bude fajn 😊

M

Učebnice (do sešitů) str. 102, cvičení 14 (Miky, Tom a Kubík pouze 8 příkladů),
a cvičení 20 podle vzoru:

$$x + 500 = 500$$

$$x = 500 - 500$$

$$\underline{x = 0} \text{ (protože } 0 + 500 = 500)$$

Již jsme to dělali, ale pokud tomu nebudete rozumět, mrkněte

sem : <http://www.matyskova-matematika.cz/4-rocnik-2-dil/video/str-57/> . 😊

Přírodověda:

<https://testy.dopravnivychova.cz/>

A v **Učebně** video z naší přírody 😊

Čtení

Dnes si přečteme O Robinsonovi (někdo již četl celou knížku 😊)

Čítanka str. 78 – 80.

A to je dnes vše, mějte se hezky, a běžte se trochu proběhnout na zahradu, bude krásně 😊

S mnoha pozdravy paní učitelka Jitka